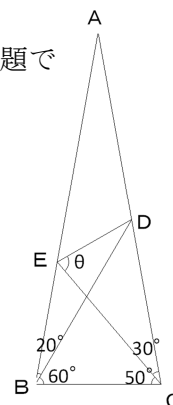


ラングラーの問題

数学 B3 班 松本翔 金剛亮太

1. はじめに

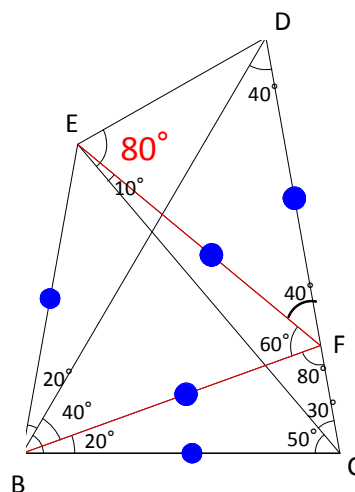
ラングラーの問題とは 1922 年に E. M. ラングラーが発表した平面幾何学の問題で「 $AB=AC$ の二等辺三角形 ABC があり、辺 AB 上に点 E 辺 AC 上に点 D を $\angle CBD=60^\circ$ $\angle ECB=50^\circ$ となるようにとったとき $\angle DEC$ の大きさを求めよ。」といった問題である。以下 $\angle DEC = \theta$ とする。



2. 研究方法

(1) まず上の問題を、補助線を用いて解いてみた。

最初に DC 上に $\angle FBC=20^\circ$ となる点 F をとり、 E, B と結ぶ。
 $\angle BCF = \angle BFC = 80^\circ$ より $BC=BF$
 また三角形 BCE は二等辺三角形なので $BC=BE=BF$
 よって $\triangle FBE$ は頂角 60° の二等辺三角形になるから正三角形。
 これより $BF=FE$
 $\angle FBD = \angle FDB = 40^\circ$ より $BF=FD$
 よって $FE=FD$ で $\triangle EFD$ は二等辺三角形。
 よって $\angle EFD=40^\circ$ より $\angle DEF=70^\circ$
 したがって $\theta = 10^\circ + 70^\circ = 80^\circ$



(2) どんな角度でも解けるように θ についての一般式を作る。

$BC=1$, $\angle DBC=a$, $\angle ECB=b$, とし、正弦定理と余弦定理を用いて各辺の長さを a, b を用いて表す。

三角形 EGD において正弦定理より

$$\sin \theta = \frac{GD \sin(a+b)}{DE} \dots (\ast)$$

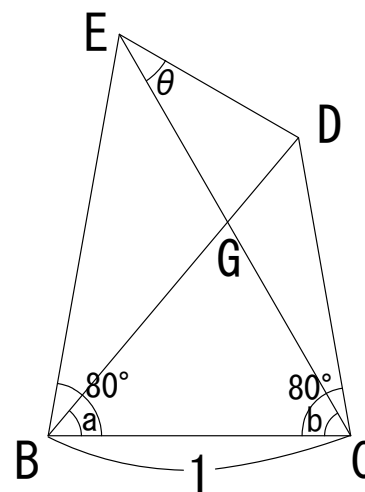
GD と DE を a, b を用いて表すことができれば、この式に代入すれば θ についての一般式の完成である。

まず GD を求める。

$$GD = BD - BG \dots \textcircled{1}$$

正弦定理より

$$\text{三角形 } BCD \text{ において } BD = \frac{\sin 80^\circ}{\sin(100^\circ - a)} \dots \textcircled{2}$$



三角形 BCG において $BC = \frac{\sin b}{\sin(a+b)} \dots \textcircled{3}$

①～③より $GD = \frac{\sin 80^\circ}{\sin(100^\circ - a)} - \frac{\sin b}{\sin(a+b)} \dots \textcircled{4}$

次に DE を求める

三角形 CED において余弦定理より

$$DE^2 = CE^2 + CD^2 - 2CE \cdot CD \cos(80^\circ - b) \dots \textcircled{5}$$

正弦定理より

三角形 BCE において $CE = \frac{\sin 80^\circ}{\sin(100^\circ - b)} \dots \textcircled{6}$

三角形 BCD において $CD = \frac{\sin a}{\sin(100^\circ - b)} \dots \textcircled{7}$

⑤～⑦より

$$DE = \sqrt{\frac{\sin^2 80^\circ}{\sin^2(100^\circ - b)} + \frac{\sin^2 a}{\sin^2(100^\circ - a)} - \frac{2 \sin 80^\circ \cdot \sin a \cdot \cos(80^\circ - b)}{\sin(100^\circ - b) \cdot \sin(100^\circ - a)}} \dots \textcircled{8}$$

④, ⑧を(*)に代入し

$$\sin \theta = \frac{\left\{ \frac{\sin 80^\circ}{\sin(100^\circ - a)} - \frac{\sin b}{\sin(a+b)} \right\} \cdot \sin(a+b)}{\sqrt{\frac{\sin^2 80^\circ}{\sin^2(100^\circ - b)} + \frac{\sin^2 a}{\sin^2(100^\circ - a)} - \frac{2 \sin 80^\circ \cdot \sin a \cdot \cos(80^\circ - b)}{\sin(100^\circ - b) \cdot \sin(100^\circ - a)}}$$

3. 結果

θ についての一般式が得られた。よって、 $\angle BCF = \angle BFC = 80^\circ$ のパターンの場合のラングラーの問題を一瞬にして解けるようになった。

4. 参考文献

「ラングラーの問題」 <http://www.himawarinet.ne.jp/~rinda/framepage1.html>